


Analiza la siguiente partida e imagina las posibles jugadas entre [] antes de realizarla en el tablero.



1. **Pe4** ¿que casilla ocupa este peón? ¿está defendido por otra figura blanca? ¿que casillas controla? ¿en que flanco está? ¿a que figuras blancas les da nuevas casillas de movilidad? 1... **Pe5** ¿que figura blanca bloquea? ¿que alfil negro es liberado? ¿que color de casilla ocupa y que color de casillas controla? ¿que alfil negro no podría mover a la casilla del Pe5? ¿que alfil negro podría cuidar las casillas laterales del Pe5? 2. **Pd4** ¿está defendido? ¿que figura negra ataca y por qué figura negra es atacado? ¿a que figuras blancas da nueva movilidad? 2... **Ped4** ¿que casilla dejó de ocupar? ¿que casillas controla y qué casillas dejó de controlar? ¿que columnas se despejaron un poco?

[2... Cc6;

2... Pd6]

3. **Dd4** ¿tienen igual cantidad de figuras ambos bandos? ¿a que peones rivales ataca la Dd4? ¿que pasaría si el Af8 se moviese? ¿está la Dd4 expuesta a algún ataque de las negras que al mismo tiempo movilizase una figura de las de atrás de dicho bando? ¿que peón blanco que antes no estaba protegido defiende la Dd4? ¿que peón blanco dejó de proteger?

[3. Pc3;

3. Cf3]

3... **Cc6** ¿amenaza algo este C? ¿que jugada ganadora tiene el negro si la Dd4 se retira a c3? 4. **De3** ¿a que figura blanca le estorba el paso? ¿que posibles jugadas negras estorba esta movida?

[4. Dc3 Ab4;

4. Da4;

4. **Dd1 Cf6 5. Cc3 Ab4**]


4... **Cf6** ¿a que casillas apunta el Cf6?

[si en vez de 4... Cf6 las negras jugasen 4... Ae7 ¿crearían alguna amenaza considerable contra la posición blanca? 5. Cc3]

5. **Cc3** ¿que casillas afirma este C? 5... **Ab4** ¿que figura blanca presiona? ¿que casillas dejaría de proteger el Cc3 si fuese capturado? ¿de que 2 nuevas movidas dispone el rey negro? 6. **Ad2** ¿a que nueva casilla apunta el Ad2? ¿que nueva movida permite al Re1? ¿que casillas apuntaría el Ad2 si llegase a c3? 6... **O-O** después del enroque corto negro, que mueve 2 figuras de un mismo color (Re8 hacia g8 y Th8 a f8) ¿cual figura negra queda más encerrada y cual obtiene más centralización? 7. **O-O-O** tras el enroque largo en el que el rey blanco llega a c1 y la Ta1 hacia d1 ¿están el rey blanco y el negro en el mismo flanco? ¿que columna semi abierta (con peones de un solo bando) ocupa la torre blanca que antes estaba en a1? 7... **Te8** ¿que figura blanca ataca esta torre desde esta columna semi abierta? ¿de que formas puede defender dicha figura las blancas?

[7... Pd5 8. Cd5]

8. **Ac4** ¿que puntos dejó de defender el blanco? ¿que punto ataca ahora el Ac4?



[8. **Dg3 Te4 9. Ce4 Ce4 10. Df4 Ad2;**

8. **Pf3 Pd5 9. Df2 Pde4**]

8... **Pd6** ¿que casillas refuerza este peón? ¿que alfil negro obtiene más movilidad? ¿que alfil negro pierde un poco de movilidad?

[descubre que obtendrían a favor las blancas si las negras en vez de 8... Pd6, ganasen un un peón tras 8... Ac3 9. Ac3 Ce4 ... (9... Te4 10. Af6) 10. Df4 Cf6 (10... Cc3 11. Af7 Rh8 12. Ae8) 11. Cf3 Pd6 12. Cg5 Ae6 13. Ad3 Ph6 14. Ph4 Cd5 (14... Phg5 15. Phg5 Cg4 16. Ae2 Cce5 17. Th5) 15. Ah7 (15. De4) 15... Rh8 (15... Rf8) 16. Td5 Ad5 17. Ae4]

Analiza las siguientes jugadas haciendote preguntas constantes de como va cambiando la situación con cada jugada y como cambiaría con las variantes que se citan entre []

9. Pf3 Ca5 10. Ab3 Cb3 11. Pab3 Pa5

[¿que pasaría con 11... Pd5 ?]

12. Df2 Ad7 13. Cge2


[13. Pg4]

13... Pa4 14. Pba4 Aa4 15. Cb1

[15. Ca4]

15... Ac5 16. Ae3 Pb6 17. Ad4 Ad7 18. Pg4 Ta5 19. Cf4 Ac6 20. Thg1 Cd7 21. Ch5 Pg6

22. Dd2 Ad4 23. Dd4 Pgh5 24. Pgh5 Rf8 25. Dg7 Re7



26. Tg5

[26. Pf4 Da8 (26... Th5; 26... Ae4 27. Tge1 Pd5 28. Pb4 Ta2 29. Te4 Pde4 30. Dg5 Rf8 (30... Re6) 31. Dh6) 27. Pe5 Pde5 28. Dg5 (28. Pfe5 Te5) 28... Pf6 (28... Rf8 29. Dh6 Re7 30. Dg5) 29. Df5 Rd8 30. Tg7 Rc8 31. Tdd7 Ad7 32. Dd7 Rb7 33. Dc7 Ra6 34. Pb4 Dc8 35. Df7 Ta4 36. Db3 Pb5]

26... Da8 27. Pb4 Tg5 28. Dg5 Pf6 29. Dg7 Rd8 30. Dh7 Da2 31. Dh6 Rc8 32. Df4 Th8
33. Ph6 Dg8 34. Td3 Dg5 *Analiza como ganarían las negras si la partida continuase.*

